

Tento týden vám neposílám poznámky k přepsání, ale úkoly k opakování z probraných orgánových soustav. Stačí zaslat jen odpovědi!

1)

2) Vylušti tajenku a získaný pojem vysvětli.

párový orgán fazolovitého tvaru  
 vrstva uvnitř ledviny pod kůrou  
 moč vznikající na konci odvodných kanálků  
 moč, která je přiváděna do odvodných kanálků  
 trubice vyvádějící z ledviny moč  
 část ledviny, kde se hromadí konečná moč

Tajenka: .....

.....

.....

	A	B	C	D	E	F	G	H	I	J	K
1											
2											
3											
4											
5											
6											

1F	2C	3C	4B	5D	6C

2) Vylušti přesmyčky a uveď, co mají všechny pojmy společného


**HENTY** =

**SOUVY** =

**UPLYCH** =

**LYVSA** =

3)



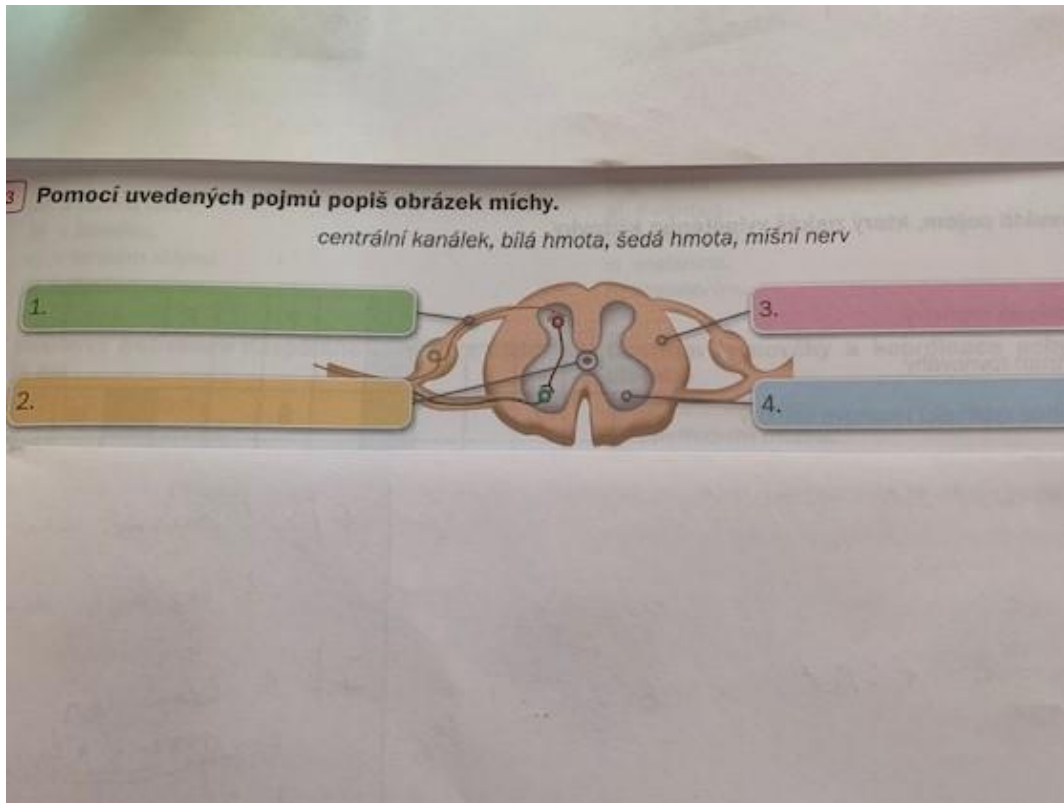
4) Jaký je počet míšních nervů u člověka?

- a) 12 párů
- b) 18 párů
- c) 31 párů
- d) 41 párů

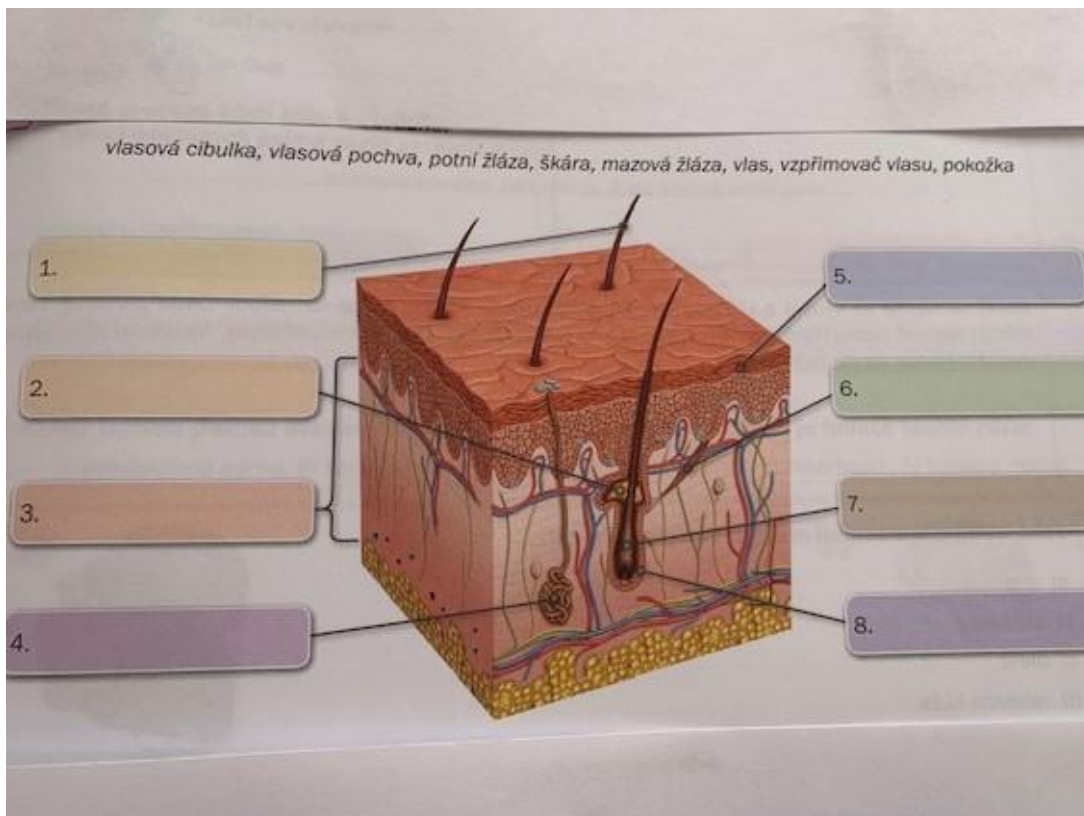
5) Který z následujících reflexů je podmíněný?

- a) mrkání
- b) polykání
- c) kýchání
- d) mluvení

6)



7)



## **8) Chybná tvrzení podtrhni a oprav:**

Hlasivky jsou umístěné v nosohltanu.

Párovým dýchacím orgánem jsou průdušky a průdušnice.

Levá plicí má 3 laloky, pravá 2.

V klidu se člověk nadechne 40x za minutu.